



- Sunardi
- Nunung Nurhayati
- Nurlailah

# Ilmu Pengetahuan Alam

untuk SD/MI **1**  
Kelas **1**



PUSAT PERBUKUAN  
Departemen Pendidikan Nasional

# Ilmu Pengetahuan Alam

untuk SD/MI **1**  
Kelas **1**



PUSAT PERBUKUAN  
Departemen Pendidikan Nasional

**ILMU PENGETAHUAN ALAM**  
**Untuk SD/MI Kelas 1**

Penulis : Sunardi  
Nunung Nurhayati  
Nurlailah

Editor : Ringga Malia

Design Cover : Ade Mulyana  
Tata Letak : Ade Mulyana  
Ilustrator : Ade Mulyana

372.3

SUN SUNARDI

i

Ilmu Pengetahuan Alam : Untuk SD/MI Kelas 1 / Penulis Sunardi,  
Nunung Nurhayati, Nurlailah ; Editor Ringga Malia ; Ilustrator Ade Mulyana  
. -- Jakarta : Pusat Perbukuan, Departemen Pendidikan Nasional, 2009.  
vii, 85 hlm. : illus. ; 25 cm.

Bibliografi : hlm. 85

ISBN 978-979-068-001-2 (nomor jilid lengkap)

ISBN 978-979-068-002-9

1. Sains-Studi dan Pengajaran 2. Sains-Pendidikan Dasar  
I. Judul II. Nunung Nurhayati III. Nurlailah IV. Ringga Malia  
V. Ade Mulyana

Diterbitkan oleh Pusat Perbukuan  
Departemen Pendidikan Nasional  
Tahun 2009

Diperbanyak oleh .....



# kata sambutan

Puji syukur kami panjatkan ke hadirat Allah SWT, berkat rahmat dan karunia-Nya, Pemerintah, dalam hal ini, Departemen Pendidikan Nasional, pada tahun 2008, telah membeli hak cipta buku teks pelajaran ini dari penulis/penerbit untuk disebarluaskan kepada masyarakat melalui situs internet (website) Jaringan Pendidikan Nasional.

Buku teks pelajaran ini telah dinilai oleh Badan Standar Nasional Pendidikan dan telah ditetapkan sebagai buku teks pelajaran yang memenuhi syarat kelayakan untuk digunakan dalam proses pembelajaran melalui Peraturan Menteri Pendidikan Nasional Nomor 69 Tahun 2008.

Kami menyampaikan penghargaan yang setinggi-tingginya kepada para penulis/penerbit yang telah berkenan mengalihkan hak cipta karyanya kepada Departemen Pendidikan Nasional untuk digunakan secara luas oleh para siswa dan guru di seluruh Indonesia.

Buku-buku teks pelajaran yang telah dialihkan hak ciptanya kepada Departemen Pendidikan Nasional ini, dapat diunduh (down load), digandakan, dicetak, dialihmediakan, atau difotokopi oleh masyarakat. Namun, untuk penggandaan yang bersifat komersial harga penjualannya harus memenuhi ketentuan yang ditetapkan oleh Pemerintah. Diharapkan bahwa buku teks pelajaran ini akan lebih mudah diakses sehingga siswa dan guru di seluruh Indonesia maupun sekolah Indonesia yang berada di luar negeri dapat memanfaatkan sumber belajar ini.

Kami berharap, semua pihak dapat mendukung kebijakan ini. Kepada para siswa kami ucapkan selamat belajar dan manfaatkanlah buku ini sebaik-baiknya. Kami menyadari bahwa buku ini masih perlu ditingkatkan mutunya. Oleh karena itu, saran dan kritik sangat kami harapkan.

Jakarta, Februari 2009  
Kepala Pusat Perbukuan



# kata pengantar

Segala puji bagi Allah swt. yang telah menciptakan alam semesta beserta isinya dengan sempurna. Namun saat ini telah terjadi berbagai bencana alam seperti banjir, tanah longsor, gempa bumi, bahkan tsunami yang telah menelan banyak korban.

Apa yang harus kita lakukan untuk mencegah terjadinya bencana tersebut? Tentu saja dengan selalu menjaga kelestarian alam. Hal itu perlu dilakukan sejak dini.

Dengan demikian mata pelajaran Ilmu Pengetahuan Alam (IPA) atau yang dikenal juga dengan sains berusaha memperkenalkan tentang alam kepada siswa secara sistematis. Melalui sains diharapkan rasa cinta siswa terhadap alam, dirinya, juga makhluk ciptaan tuhan yang lain akan tertanam di dalam jiwanya, sehingga sampai mereka tumbuh dewasa akan menjadi pribadi yang berjiwa ilmiah dan memiliki kepedulian tinggi terhadap lingkungan sekitarnya.

Buku sains yang disusun sesuai dengan standar isi dan dikemas sesuai pemahaman anak ini merupakan titik terang untuk mewujudkan harapan tersebut. Namun kami tak dapat mengatakan buku ini telah benar-benar sempurna, karena tentu masih ada kekurangannya. Oleh karena itu kami menerima kritik dan saran yang membangun untuk perbaikan di masa mendatang.

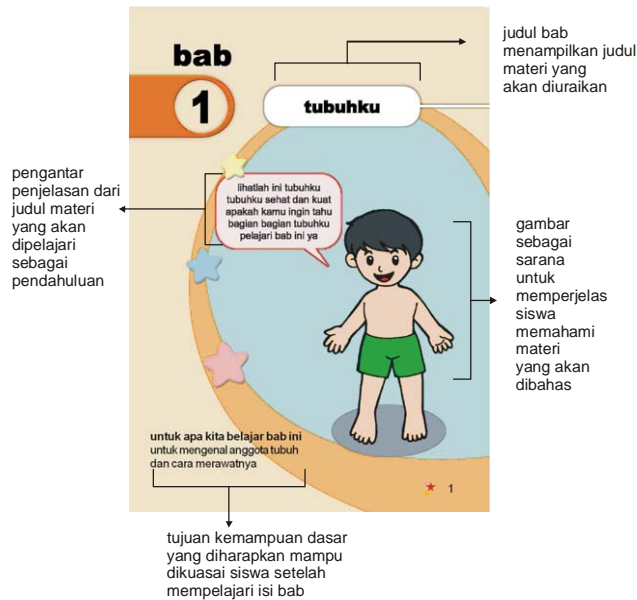


Penulis

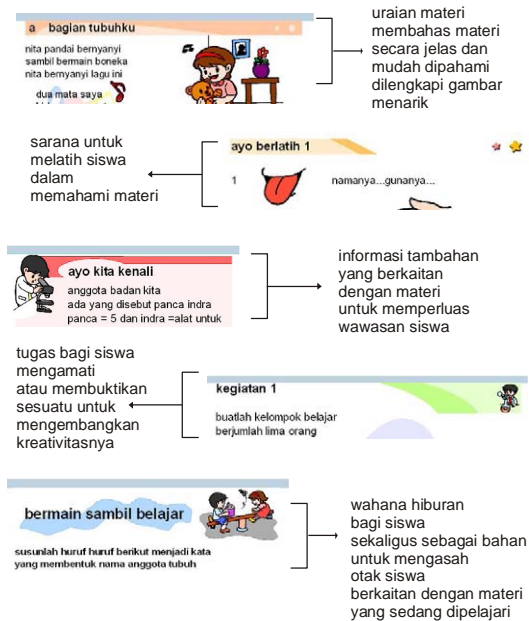


# petunjuk isi buku

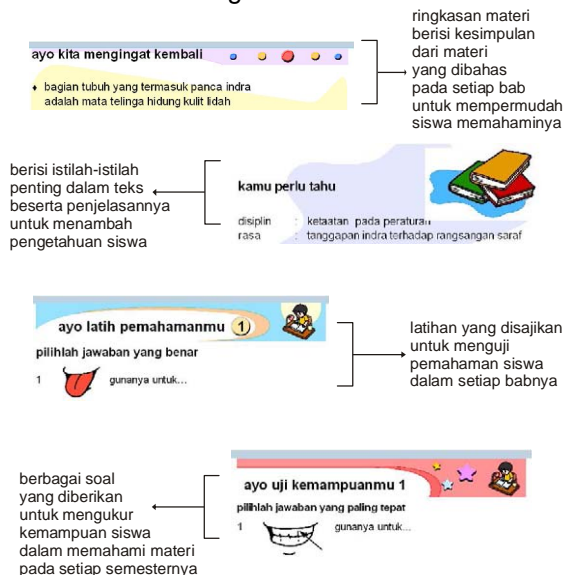
## bagian awal bab



## bagian isi bab



## bagian akhir bab





# daftar isi

<b>kata sambutan</b>	<b>iii</b>
<b>kata pengantar</b>	<b>iv</b>
<b>petunjuk isi buku</b>	<b>v</b>
<b>daftar isi</b>	<b>vi</b>
<b>bab 1 tubuhku</b>	<b>1</b>
a bagian tubuhku	2
b kegunaan bagian tubuhku	3
c merawat bagian tubuh	7
ayo kita mengingat kembali	11
kamu perlu tahu	11
ayo latih pemahamanmu 1	12
<b>bab 2 tubuh sehat dan kuat</b>	<b>13</b>
a memenuhi kebutuhan makan	14
b memenuhi kebutuhan air	16
c memenuhi kebutuhan pakaian	17
d memenuhi kebutuhan udara	18
e memenuhi kebutuhan lingkungan sehat	18
f membiasakan hidup sehat	18
ayo kita mengingat kembali	20
kamu perlu tahu	20
ayo latih pemahamanmu 2	21
<b>bab 3 lingkunganku</b>	<b>23</b>
a menjaga lingkungan	24
b membedakan lingkungan sehat dan tidak sehat	26
c cinta lingkungan dan sesama ciptaan tuhan	27



ayo kita mengingat kembali	32
kamu perlu tahu	32
ayo latih pemahamanmu 3	33
ayo uji kemampuanmu 1	35
<b>bab 4 benda benda di sekitarku</b>	<b>39</b>
a mengenal ciri ciri benda	40
b perubahan bentuk benda	44
c kegunaan berbagai macam benda	47
ayo kita mengingat kembali	50
kamu perlu tahu	50
ayo latih pemahamanmu 4	51
<b>bab 5 berbagai energi dan manfaatnya</b>	<b>53</b>
a hubungan energi dan gerak benda	54
b berbagai gerak benda dan penyebabnya	56
c sumber energi dan manfaatnya	59
ayo kita mengingat kembali	63
kamu perlu tahu	63
ayo latih pemahamanmu 5	64
<b>bab 6 benda benda langit dan peristiwa alam</b>	<b>67</b>
a benda benda langit	68
b cuaca	71
c musim dan pengaruhnya	73
ayo kita mengingat kembali	78
<b>kamu perlu tahu</b>	<b>78</b>
<b>ayo latih pemahamanmu 6</b>	<b>79</b>
<b>ayo uji kemampuanmu 2</b>	<b>81</b>
<b>daftar pustaka</b>	<b>85</b>







# **bab**

# **1**

## **tubuhku**

lihatlah ini tubuhku  
tubuhku sehat dan kuat  
apakah kamu ingin tahu  
bagian bagian tubuhku  
pelajari bab ini ya



**untuk apa kita belajar bab ini**  
untuk mengenal anggota tubuh  
dan cara merawatnya



## a bagian tubuhku

nita pandai bernyanyi  
sambil bermain boneka  
nita bernyanyi lagu ini

dua mata saya  
hidung saya satu  
dua telinga saya  
yang kiri dan kanan  
dua kaki saya  
pakai sepatu baru

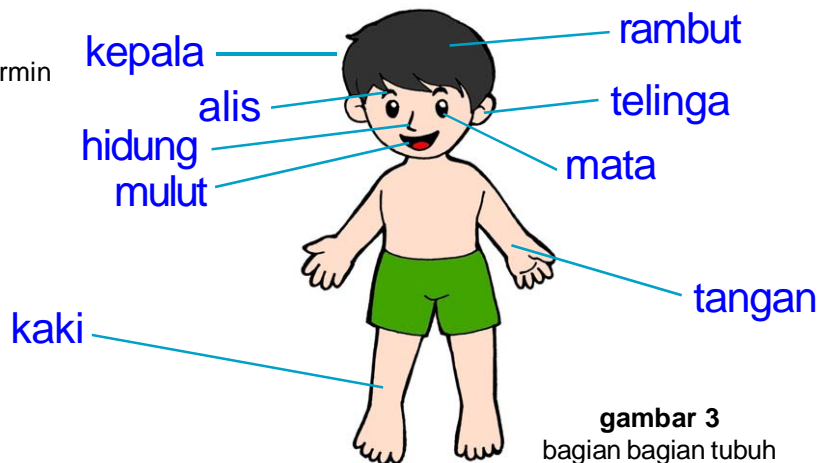


**gambar 1**  
nita sedang bernyanyi



**gambar 2**  
bobi sedang bercermin

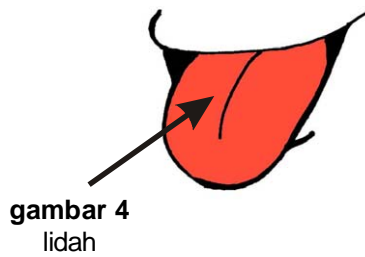
bobi kakak nita  
bobi mendengar lagu itu  
bobi teringat nama nama  
setiap bagian tubuhnya  
yang diajarkan gurunya  
di sekolah tadi siang  
bobi kembali mempelajarinya  
bobi berdiri di depan cermin  
sambil menunjuk dan  
menyebutkan setiap bagian  
tubuhnya satu per satu



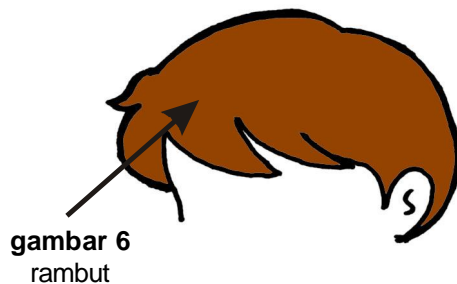
**gambar 3**  
bagian bagian tubuh



bobi juga menjulurkan lidahnya

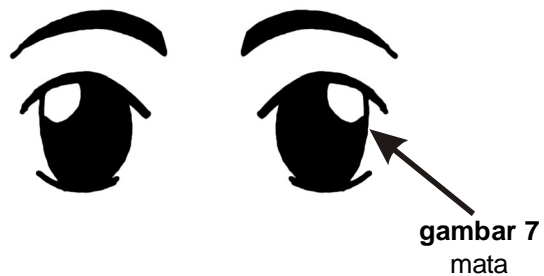


## b kegunaan bagian tubuhku



ini namanya rambut  
gunanya untuk melindungi kepala  
jika tidak ada rambut  
kulit kepala kita  
akan terasa panas  
saat terkena terik matahari

ini namanya mata  
gunanya untuk melihat  
semua yang ada di alam ini



ini namanya hidung  
gunanya untuk mencium bau  
ada bau yang harum  
ada juga bau yang tidak sedap  
kita dapat membedakannya  
dengan menggunakan hidung

ini adalah telinga  
gunanya untuk mendengar suara  
kita mendengar lagu di radio  
dengan menggunakan telinga





gambar 10  
lidah

lidah gunanya untuk mengecap rasa  
kita makan berbagai makanan  
rasanya berbeda beda  
ada asin manis asam pahit  
lidah yang dapat merasakannya

tangan banyak gunanya  
salah satu di antaranya  
untuk memegang benda



gambar 11  
tangan

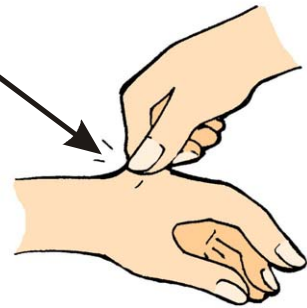
gigi gunanya untuk menggigit  
juga mengunyah makanan



gambar 12  
gigi

ini namanya kulit  
kulit adalah alat indra  
yang terletak di bagian paling luar  
dan melapisi tubuh kita  
kulit gunanya sebagai alat peraba  
kulit dapat merasakan  
panas dingin dan kasar halus  
berbagai macam benda

gambar 13  
kulit



gambar 14  
kaki



kaki gunanya untuk berjalan  
kaki dapat juga kita gunakan  
untuk menendang bola





## ayo kita kenali

anggota badan kita  
ada yang disebut panca indra  
panca = 5 dan indra = alat untuk  
melihat mencium mendengar  
merasa dan meraba  
terdiri dari mata hidung  
telinga lidah dan kulit

### ayo berlatih 1




1




namanya...gunanya...

2

namanya...gunanya...



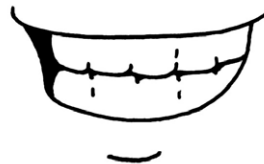
3



namanya...gunanya...

4

namanya...gunanya...



5



namanya...gunanya...



## kegiatan 1



buatlah kelompok belajar  
berjumlah lima orang

- 1 satu orang maju ke depan  
tutuplah kedua matanya dengan kain
- 2 empat anggota lainnya berdiri sejajar
  - satu orang memegang gula
  - satu orang memegang garam
  - satu orang memegang obat
  - satu orang memegang asam
- 3 setelah mencicipi benda  
yang dipegang temannya  
sebutkan rasanya
- 4 tulis jawaban temanmu pada kertas
- 5 kerjakan secara bergantian  
dapatkah teman temanmu membedakan rasa

## kegiatan 2



- 1 satu orang maju ke depan  
tutuplah kedua matanya dengan kain
- 2 tiga anggota lainnya berdiri sejajar
  - satu orang membawa bunga mawar
  - satu orang membawa minyak kayu putih
  - satu orang membawa minyak wangi
- 3 setelah mencium benda yang dipegang temannya  
sebutkan baunya
  - satu orang mencatat hasil penciuman temannyadapatkah temanmu membedakan bau



### kegiatan 3



- 1 satu orang maju ke depan  
tutuplah kedua telinganya dengan kapas
- 2 tiga anggota lainnya berdiri sejajar
  - satu orang berbicara pelan “aku suka sayur”
  - satu orang berbicara sedikit keras “aku suka telur”
  - satu orang berbicara lebih keras “aku suka bubur”
- 3 setelah mendengar ucapan temanmu  
sebutkan kalimat itu  
dapatkah temanmu mendengar suara dengan jelas  
saat telinganya ditutup

### c merawat bagian tubuh

kini bobi telah mengerti  
setiap bagian tubuh sangat berguna  
karena itu bobi selalu merawatnya



**gambar 15**  
bobi sedang mandi

setiap hari bobi mandi  
dua kali dalam sehari  
pagi dan sore hari  
bobi mandi menggunakan sabun  
tubuh bobi bersih dan wangi  
serta sehat selalu

nita juga seperti bobi  
nita anak yang rajin  
merawat bagian tubuhnya  
rambut nita panjang  
nita mencucinya dengan sampo  
rambut nita menjadi bersih  
dan juga harum

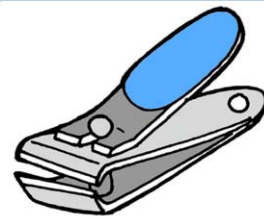


**gambar 16**  
nita sedang  
mencuci rambut





bobi juga tak pernah lupa  
membersihkan dan memotong kukunya  
dengan menggunakan gunting kuku  
sehingga kuku bobi  
menjadi pendek dan bersih



**gambar 17**  
gunting kuku

bobi dan nita memang terbiasa  
menjaga kebersihan tubuh  
ketika akan makan  
mereka selalu mencuci tangan  
jika pulang bermain dan hendak tidur  
mereka selalu mencuci tangan dan kaki



**gambar 18**  
bobi dan nita  
sehat dan ceria

selain itu mereka tak lupa  
untuk menggosok gigi  
menggunakan sikat gigi  
yang diberi pasta gigi  
sehingga gigi mereka  
menjadi putih dan kuat  
bobi dan nita juga  
terhindar dari penyakit  
mereka tumbuh sehat  
dan selalu ceria

berbeda dengan banu  
teman bobi di sekolah  
kuku banu panjang dan kotor  
jika banu akan makan  
banu tidak mencuci tangan  
akibatnya banu sakit perut





**gambar 19**  
banu sakit perut



## ayo berlatih 2



pasangkanlah bagian tubuh berikut  
dengan bahan atau alat untuk merawatnya



# bermain sambil belajar



susunlah huruf huruf berikut menjadi kata yang membentuk nama anggota tubuh dan tariklah garis pada anggota tubuh itu

1 g - n - i - d - h - u =...

2 a - d - i - l - h =...

3 e - t - l - i - g - n - a =...

4 t - a - m - a =.....

5 i - k - a - k =.....

6 n - g - a - n - a - t = ...



## ayo kita mengingat kembali

- ♦ bagian tubuh yang termasuk panca indra adalah mata telinga hidung kulit lidah
- ♦ masing masing bagian tubuh memiliki kegunaan yang sangat penting
- ♦ merawat bagian tubuh dapat terhindar dari penyakit
- ♦ anak yang malas merawat bagian tubuhnya akan mudah terserang penyakit

## kamu perlu tahu




- meraba : menyentuh dengan telapak tangan karena hendak merasakan sesuatu
- rasa : segala sesuatu yang dirasakan lidah atau bagian tubuh lain
- suara : bunyi yang dikeluarkan oleh mulut manusia binatang atau benda lain

## ayo latih pemahamanmu

1



**pilihlah jawaban yang benar**

- 1  gunanya untuk...
- a mencium bau      b mengecap rasa      c meraba benda
- 2 kuku yang panjang dan kotor adalah...
- a sumber vitamin      b sarang penyakit      c sumber tenaga
- 3 bobi membersihkan badannya dengan...
- a sabun                      b sampo                      c pasta gigi
- 4 nita merawat rambutnya dengan...
- a sampo                      b sabun mandi              c pasta gigi
- 5 banu sakit perut karena...sebelum makan
- a mencuci rambut  
b membersihkan kuku  
c tidak mencuci tangan

**isilah titik titik di bawah ini**

- 1 panca adalah...
- 2 sebelum makan hendaknya mencuci...  
terlebih dahulu
- 3 bobi mandi...kali sehari
- 4 merawat bagian tubuh dapat terhindar dari...
- 5 gigi yang sehat dan kuat  
dibersihkan dengan...memakai...



# **bab**

## **2**

### **tubuh sehat dan kuat**

ayo nita semangat  
olahraga dapat membuat  
tubuh menjadi sehat dan kuat  
apalagi yang dibutuhkan tubuh  
pelajari bab ini ya



**untuk apa kita belajar bab ini**  
untuk mengetahui kebutuhan tubuh  
agar tubuh sehat dan kuat  
dan supaya kita terbiasa hidup sehat



di pagi yang cerah  
bobi dan ayahnya berolah raga  
pak tomi menjelaskan  
olahraga sangat penting  
untuk kesehatan tubuh  
apa yang dibutuhkan tubuh  
tanya bobi kepada ayahnya  
makanan pakaian udara air  
juga lingkungan sehat  
jawab pak tomi  
bobi menyayangi tubuhnya  
bobi akan selalu berusaha  
memenuhi kebutuhan tubuhnya  
bagaimana caranya



**gambar 1**  
bobi dan ayahnya  
berolah raga

## a memenuhi kebutuhan makan



**gambar 2**  
bobi dan keluarganya  
makan bersama

bobi makan sehari tiga kali  
pagi siang dan malam  
bobi makan nasi  
sayur lauk buah  
juga minum susu  
empat sehat lima sempurna  
itulah yang dimakan bobi  
bobi menjadi anak sehat  
kuat dan juga cerdas





## ayo kita kenali

makanan yang mengandung empat sehat terdiri dari nasi sayur lauk buah lima sempurnanya adalah susu



**gambar 3**  
makanan yang mengandung empat sehat lima sempurna

## ayo berlatih 1




ayo kita beri nama dan kelompoknya pada makanan berikut

contoh:



namanya kol atau kubis  
termasuk sayuran



namanya...  
termasuk...




namanya...  
termasuk...







namanya....  
termasuk....



namanya...  
termasuk...

## b memenuhi kebutuhan air



**gambar 4**  
bobi sedang minum

bobi gemar bermain bola  
dan berbagai kegiatan lainnya  
bobi berkeringat setiap hari  
ayahnya menyarankan bobi  
untuk minum yang banyak  
karena tubuh memerlukan air  
jika kurang minum  
kita akan lemas  
itu karena tubuh kita  
kekurangan cairan

pak tomi juga menjelaskan  
air digunakan di dalam tubuh  
dan juga di luar tubuh  
kita minum air  
untuk menambah cairan di dalam tubuh  
juga untuk menghasilkan tenaga  
sedangkan di luar tubuh  
kita menggunakan air  
di antaranya untuk mandi





## ayo kita kenali

air sangat bermanfaat  
bagi makhluk hidup  
sebagian besar tubuh kita  
berisi air  
kita mengeluarkan keringat  
dan juga air seni  
sehingga kita perlu minum  
dua liter setiap hari



**gambar 5**  
air

## c memenuhi kebutuhan pakaian

pada musim hujan  
udara sangat dingin  
saat musim kemarau tiba  
udara terasa panas  
bobi melindungi tubuhnya  
dari panas dan dingin  
pada musim panas  
bobi memakai pakaian tipis  
pada musim dingin  
bobi memakai pakaian tebal



**gambar 6**  
bobi memakai pakaian tebal  
pada musim dingin dan  
pakaian tipis pada musim kemarau



## d memenuhi kebutuhan udara

pada liburan sekolah keluarga bobi pergi ke puncak udara di puncak terasa sejuk karena bersih dari pencemaran atau pengotoran udara kata pak tomi udara segar dibutuhkan tubuh jika kita menghirupnya tubuh kita juga akan sehat dan segar



**gambar 7**  
keluarga bobi berlibur ke puncak

## e memenuhi kebutuhan lingkungan sehat

pak tomi juga menganjurkan hidup sehat kepada keluarganya karena pak tomi suka kebersihan kebersihan pangkal kesehatan jika lingkungan kita bersih tubuh akan sehat dan kuat



**gambar 8**  
pak tomi membuang sampah ke tempatnya

## f membiasakan hidup sehat

keluarga pak tomi terbiasa hidup sehat bagaimana caranya ya mereka selalu menjaga kebersihan baik kebersihan tubuh maupun lingkungan mereka juga rajin berolah raga dan makan makanan bergizi yang dimasak ibu di rumah bobi tak pernah jajan



di sembarang tempat  
karena makanan yang kotor  
adalah sumber penyakit

## ayo berlatih 2



**lengkapilah pertanyaan mengenai keluarga bobi  
dalam memenuhi kebutuhan tubuhnya**

- 1 makanan yang dimakan keluarga bobi mengandung...
- 2 bobi banyak minum agar tubuhnya tidak ...  
dan tidak kekurangan...
- 3 bobi memakai pakaian...pada musim dingin  
dan pakaian yang...pada musim panas

## bermain sambil belajar



**pasangkanlah makanan dan minuman berikut  
pada binatang yang menghasilkannya**



**sumber :**  
majalah kreativitas mombi  
tahun XI 16 mei 2003



## ayo kita mengingat kembali

- ♦ tubuh memerlukan makanan pakaian udara air dan lingkungan sehat
- ♦ sebaiknya kita makan sehari tiga kali yaitu pagi siang dan malam hari
- ♦ makanan bergizi mengandung empat sehat lima sempurna
- ♦ empat sehat terdiri dari nasi sayur lauk buah dan lima sempurna susu
- ♦ jika kurang minum dapat menyebabkan kekurangan cairan di dalam tubuh
- ♦ pakaian dapat melindungi kita dari udara panas dan dingin
- ♦ makanan yang kotor penyebab penyakit

## kamu perlu tahu



- air seni : air kencing
- gizi : makanan pokok yang diperlukan bagi pertumbuhan dan kesehatan badan
- kemarau : kebalikan dari musim hujan yaitu musim panas dan kering
- penyakit : sesuatu yang menyebabkan gangguan pada makhluk hidup
- sempurna : utuh dan lengkap segalanya



## ayo latih pemahamanmu 2



### pilihlah jawaban yang benar

- 1 makanan bergizi adalah makanan yang...  
a enak                      b mahal                      c sehat
- 2 jika kita lari akan mengeluarkan...  
a keringat                      b makanan                      c darah
- 3 kebersihan pangkal...  
a kesesatan                      b kesehatan                      c kekayaan
- 4 rumah yang sehat adalah rumah yang...  
a mewah                      b luas                      c bersih
- 5 udara di puncak terasa...  
a sejuk                      b panas                      c hangat
- 6 jika menghirup udara yang bersih akan menjadi...  
a sehat                      b lemas                      c sakit
- 7 jika musim dingin pakailah pakaian yang...  
a tipis                      b tebal                      c bagus
- 8 jika musim kemarau pakailah...  
a jaket yang tebal  
b pakaian yang tipis  
c mantel berbulu



9 olahraga membuat tubuh selalu...

a sehat

b lemas

c kaku

10 makanan yang kotor menyebabkan...

a penyakit

b kekuatan

c kekebalan

### **isilah titik titik di bawah ini**

1 empat sehat lima...

2 kita makan sehari sebanyak...kali

3 empat sehat terdiri dari...

4 sebagian besar tubuh kita berisi...

5 orang yang kekurangan cairan tubuhnya terasa...



# **bab**

## **3**

### **lingkunganku**

anak anak  
tumbuhan dan hewan  
ciptaan tuhan  
karena itu  
jagalah dengan baik  
bagaimana caranya  
pelajari bab ini ya



**untuk apa kita belajar bab ini**  
mengetahui cara menjaga lingkungan  
membedakan lingkungan sehat dan tidak sehat  
menceritakan perlunya merawat hewan  
tanaman dan lingkungan sekitar





## a menjaga lingkungan

### 1 menjaga kebersihan rumah



**gambar 1**  
rumah bobi bersih  
dan rapi

lihatlah yang dilakukan bobi  
setiap bangun tidur  
bobi selalu merapikan  
tempat tidurnya  
juga selalu membantu ibu  
menyapu dan mengepel lantai  
sehingga setiap ruangan  
di rumah bobi  
bersih dari debu



**gambar 3**  
bu rida dan pak tomi  
sedang berkebun

rumah bobi bersih  
juga tertata rapi  
keluarga pak tomi  
memiliki sifat rajin  
mereka selalu menjaga  
kebersihan rumah



**gambar 2**  
bobi sedang merapikan  
tempat tidur

pekarangan rumah bobi  
juga terlihat asri  
halaman rumahnya cukup luas  
ditanami berbagai tumbuhan  
ada pohon mangga  
jeruk dan jambu  
juga bermacam macam bunga  
ada mawar melati dan anggrek  
bunga bunga itu terlihat indah



keluarga bobi senang berkebun  
pak tomi memberi pupuk  
kepada setiap tanaman  
bu rida menanam bunga  
bobi menyirami semua pohon  
dan nita menyirami bunga  
setiap pagi dan sore  
sambil menyanyikan lagu ini

lihat kebunku  
penuh dengan bunga  
ada yang putih  
dan ada yang merah  
setiap hari kusiram semua  
mawar melati  
semuanya indah




## ayo berlatih 1



ayo tentukan olehmu nama tanaman  
dan bunga di bawah ini

1




2



3



4



5



## 2 menjaga kebersihan sekolah

selain menjaga kebersihan rumah  
bobi juga selalu menjaga  
kebersihan sekolahnya  
bobi membuang sampah  
pada tempatnya  
bobi tidak pernah merusak  
lingkungan sekolahnya  
bobi tidak suka  
mencoret coret dinding kelasnya



**gambar 4**  
bobi membuang sampah  
pada tempatnya

## b membedakan lingkungan sehat dan tidak sehat

### 1 lingkungan sehat

menjaga kebersihan lingkungan  
berarti menciptakan lingkungan yang sehat  
bagaimana ciri lingkungan sehat itu  
ayo perhatikan lingkungan  
di sekitar rumah bobi



**gambar 5**  
lingkungan sekitar rumah bobi

di sana banyak rumah  
yang letaknya berdekatan  
dan tersusun rapi  
biasanya lingkungan seperti itu  
disebut dengan kompleks  
pada setiap rumah  
terdapat tempat sampah  
penduduk di kompleks itu  
selalu membuangnya ke sana  
kompleks itu terlihat bersih  
bobi merasa nyaman  
tinggal di lingkungan yang sehat



## 2 lingkungan tidak sehat



gambar 6  
daerah kumuh

berbeda dengan di daerah kumuh yang pernah bobi lihat rumah penduduk di sana terletak di tepi sungai mereka mandi dan mencuci di sungai yang kotor mereka juga menggunakan air itu untuk minum sampah terlihat berserakan di mana mana bahkan air sungai tertutup oleh sampah

di daerah sekitar sungai tercium bau tak sedap banyak penduduk terserang berbagai macam penyakit di antaranya diare dan penyakit kulit bobi sangat sedih melihat keadaan seperti itu

### **c cinta lingkungan dan sesama ciptaan tuhan**

bobi telah melihat lingkungan yang sehat dan tidak sehat kini bobi dapat membedakannya karena itu mulai sekarang bobi akan menjaga lingkungan serta merawat hewan dan tanaman yang juga ciptaan tuhan



## 1 pentingnya merawat tanaman

pak tomi bangga kepada bobi yang menyayangi ciptaan tuhan pak tomi menjelaskan kepada bobi pentingnya tanaman bagi kehidupan tanaman membuat udara menjadi sejuk dan segar serta baik untuk kesehatan tanaman juga menambah keindahan mendengar penjelasan ayahnya bobi menjadi semakin rajin merawat bunga dan tanaman



**gambar 7**  
bobi menyiram tanaman

## 2 pentingnya merawat hewan peliharaan

bobi juga selalu merawat hewan peliharaannya dengan baik hewan peliharaan bobi dan nita terdiri dari kucing kelinci ikan dan burung kakak tua setiap hari bobi dan nita selalu memberi mereka makan terkadang bobi memandikan kucing dan juga kelincinya agar terlihat bersih

bobi dan nita juga sering bermain dengan hewan peliharaannya bobi mengejar kucing dan kelincinya yang berlarian di sekitar taman mereka terlihat sangat lucu



**gambar 8**  
bobi memperhatikan kelinci dan kucingnya



pak tomi juga menyayangi hewan  
jika hewan peliharaan bobi dan nita  
terlihat sedang sakit  
pak tomi membawanya ke dokter hewan  
selain itu pak tomi suka membersihkan  
aquarium tempat ikan bobi dipelihara

## ayo berlatih 2



**bobi selalu memberi makan hewan peliharaannya  
sebutkan olehmu apa makanan  
hewan hewan peliharaan bobi itu**

1




makanannya...

2




makanannya...

3



makanannya...

4



makanannya...

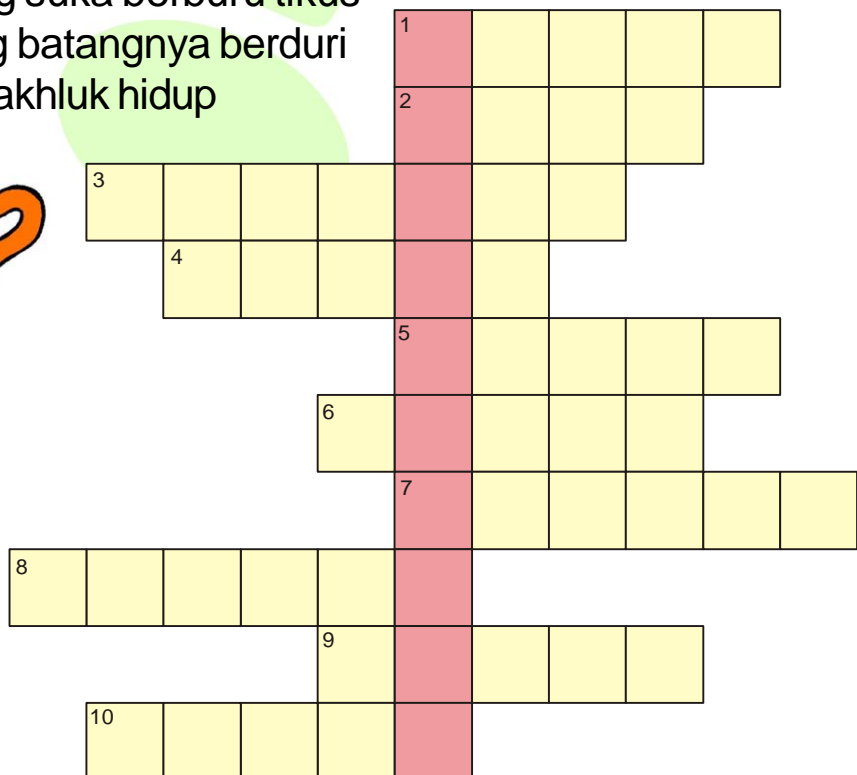


# bermain sambil belajar



Isilah kotak-kotak berikut sesuai pertanyaan sehingga pada kotak yang berwarna merah akan membentuk kata lingkungan

- 1 hinggap di makanan dan tempat kotor
- 2 hewan yang hidup di air
- 3 hewan yang makanannya wortel
- 4 mawar dan melati
- 5 nama lain dari lingkungan yang kotor
- 6 penyubur tanaman
- 7 yang dirasakan bobi saat tinggal di lingkungan sehat
- 8 hewan yang suka berburu tikus
- 9 bunga yang batangnya berduri
- 10 pencipta makhluk hidup





## ayo kita kenali

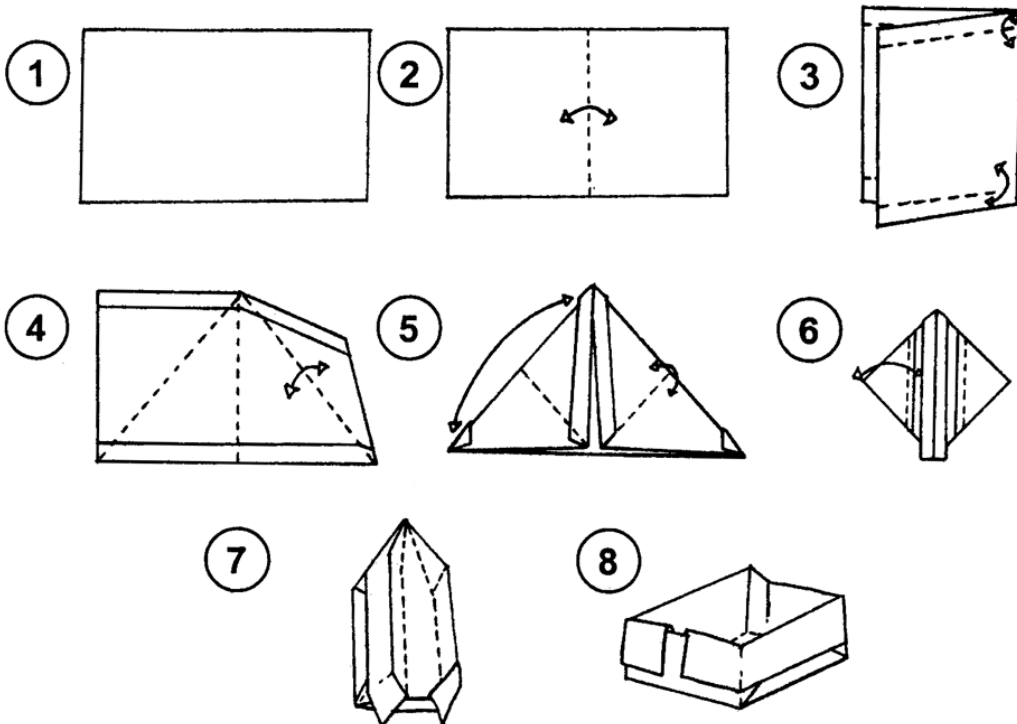
cara menjaga kelestarian lingkungan

- 1 membuang sampah pada tempatnya
- 2 tidak membuang sampah ke sungai
- 3 tidak merusak tanaman yang ada di sekitar kita
- 4 merawat tanaman yang ada
- 5 melakukan kerja bakti untuk membersihkan lingkungan

## kegiatan



buatlah tong sampah dari kertas lipat untuk menampung rautan pensilmu mintalah bantuan kakak atau orang tuamu jika merasa kesulitan





## ayo kita mengingat kembali

- ◆ membuang sampah harus pada tempatnya
- ◆ lingkungan yang bersih membuat tubuh sehat
- ◆ lingkungan yang kotor menimbulkan penyakit
- ◆ selain manusia tuhan menciptakan hewan dan tumbuhan
- ◆ kita harus merawat tanaman dengan baik
- ◆ kita harus menyayangi hewan hewan

## kamu perlu tahu



asri	: indah dan sedap dipandang mata
debu	: serbuk halus dari tanah atau abu
diare	: jenis penyakit yang ditandai dengan buang air besar terus menerus
kelestarian	: tetap atau tidak berubah
kerja bakti	: bekerja secara bersama sama
kumuh	: kotor
pupuk	: penyubur tanaman yang ditambahkan ke tanah



## ayo latih pemahamanmu

3



pilihlah jawaban yang paling tepat

1 bobi menyapu lantai menggunakan...

a



b.



c.



2 berikut ini yang bukan nama bunga adalah...

a mawar

b melati

c merpati

3 ciri lingkungan yang sehat adalah...

a sampah berserakan di mana mana

b banyak air yang tergenang

c di setiap rumah terdapat tempat sampah

4 ciri lingkungan tidak sehat adalah...

a sungai dipenuhi oleh sampah

b sampah dibuang pada tempatnya

c tidak tercium bau yang tidak sedap

5 berikut ini yang bukan cara merawat tanaman adalah...

a diberi pupuk

b disirami

c ditebangi



- 6 bobi memberi jagung kepada...  
a ikannya                      b kelincinya                      c burungnya
- 7 bobi memelihara ikannya di dalam...  
a kolam                      b aquarium                      c sungai
- 8 bobi merasa...melihat keadaan  
di daerah kumuh  
a senang                      b sedih                      c iri hati
- 9 hewan dan tanaman adalah ciptaan...  
a tuhan                      b manusia                      c malaikat
- 10 ketika melihat tulang ikan...  
langsung menyantapnya  
a kucing                      b burung                      c kelinci

**isilah titik titik di bawah ini**

- 1 air dari sungai kotor menyebabkan...
- 2 pupuk berguna untuk menyuburkan...
- 3 lingkungan bersih membuat tubuh menjadi...
- 4 penduduk melakukan kerja bakti untuk membersihkan ...
- 5 ....dan....peliharaan bobi berlarian di sekitar taman



## ayo uji kemampuanmu 1

pilihlah jawaban yang paling tepat

1  gunanya untuk...

a mencakar

b meraba

c menggigit

2  digunakan untuk merawat...

a kuku

b rambut

c gigi

3 panca artinya...

a tiga

b empat

c lima

4 indra yang digunakan untuk meraba adalah...

a lidah

b kulit

c hidung

5 kita menonton televisi menggunakan...

a hidung

b mata

c telinga

6 kangkung termasuk...

a lauk pauk

b buah buahan

c sayur sayuran



7 sebaiknya kita minum sedikitnya ...setiap hari

a empat liter

b tiga liter

c dua liter

8 nita mencuci rambut dengan...

a



b



c



9 madu diolah dari binatang...

a ayam

b lebah

c sapi

10 baju yang cocok dipakai di musim dingin adalah...

a mantel bulu

b kaos tipis

c celana pendek

11 sebagian besar tubuh kita berisi...

a makanan

b udara

c air

12 sebaiknya kita makan ...dalam sehari

a dua kali

b tiga kali

c empat kali

13 setiap bangun tidur bobi selalu...

a langsung makan

b merapikan tempat tidur

c olahraga pagi

14 ikan termasuk...

a lauk pauk

b buah buahan

c sayur sayuran



15 bobi merasa nyaman tinggal di lingkungan...

a kotor

b kumuh

c bersih

16 lalat dan nyamuk membawa benih...

a penyakit

b vitamin

c tanaman

17 agar tumbuh subur tanaman harus diberi...

a pupuk

b hama

c racun

18 hewan peliharaan bobi di antaranya...

a kelinci

b kera

c kuda

19 bunga yang batangnya berduri adalah...


a



b



c



20 lingkungan yang tidak sehat terlihat pada gambar...

a



b



c



## II jawablah pertanyaan di bawah ini

- 1 apakah akibat tidak mencuci tangan sebelum makan
- 2 terdiri dari apa sajakah empat sehat lima sempurna itu
- 3 ke manakah pak tomi membawa hewan peliharaannya jika sakit
- 4 apakah makanan kelinci
- 5 apakah tanda penyakit diare



# **bab**

## **4**

### **benda benda di sekitarku**

lihatlah di sekitarku  
banyak benda  
tahukah kamu  
nama nama benda itu  
pelajari bab ini ya



#### **untuk apa kita belajar bab ini**

mengenal berbagai sifat benda dan kegunaannya  
menggambarkan benda di lingkungan sekitar  
mengenal benda yang dapat diubah bentuknya  
menyebutkan kegunaan benda di lingkungan sekitar





## a mengenali ciri ciri benda

### 1 mengamati bentuk benda



**gambar 1**  
bobi mengamati berbagai  
benda

bobi terlihat sedang berpikir  
bobi diberi tugas gurunya  
mengamati benda benda di rumahnya  
bobi meminta bantuan ayahnya  
pak tomi menunjuk setiap benda  
yang ada di sekitarnya  
bobi menulis benda benda  
yang ditunjuk ayahnya  
inilah benda benda itu



**gambar 2**  
televisi




**gambar 3**  
radio



**gambar 4**  
jam dinding



**gambar 5**  
kaleng  
minuman



**gambar 6**  
lemari

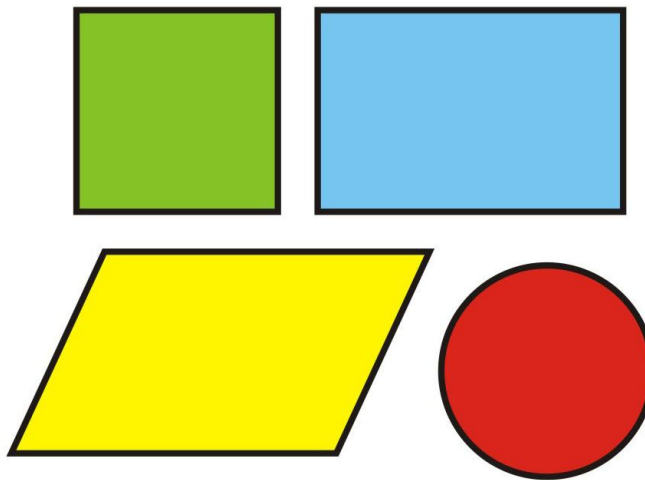


pak tomi menjelaskan  
bentuk setiap benda berbeda  
televisi berbentuk kotak  
jam dinding berbentuk lingkaran  
botol minuman berbentuk tabung

## ayo berlatih 1

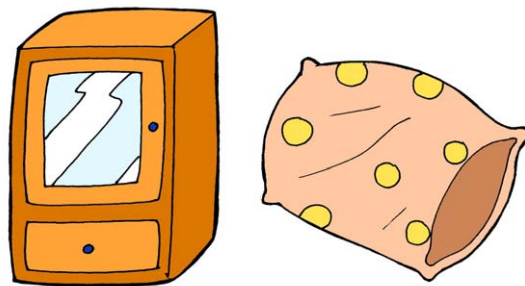


carilah olehmu benda lainnya  
yang memiliki bentuk seperti berikut



## 2 mengamati bahan benda

selain bentuknya yang berbeda  
bahan benda juga berbeda  
peganglah lemari dan televisi  
pak tomi menyuruh bobi  
bobi menuruti perintah ayahnya  
lemari dan televisi  
ternyata keras saat dipegang  
sekarang peganglah bantal ini  
bobi kembali menuruti ayahnya



**gambar 7**  
lemari keras dan bantal empuk  
saat dipegang



bantal empuk saat dipegang  
mengapa demikian  
itu karena bahannya berbeda  
lemari terbuat dari kayu  
sedangkan bantal dari kapas

### 3 mengamati ukuran benda

setiap benda juga  
mempunyai ukuran yang berbeda  
pak tomi kembali menjelaskan  
contohnya bagaimana ayah  
bobi bertanya kepada ayahnya  
bandingkan ukuran bola ini  
ukuran bola golf  
lebih kecil dari bola tenis  
ukuran bola tenis  
lebih kecil dari bola voli  
ukuran bola voli  
lebih kecil dari bola basket



**gambar 8**  
bermacam macam bola



**gambar 9**  
bola basket



**gambar 10**  
bola voli



**gambar 11**  
bola tenis



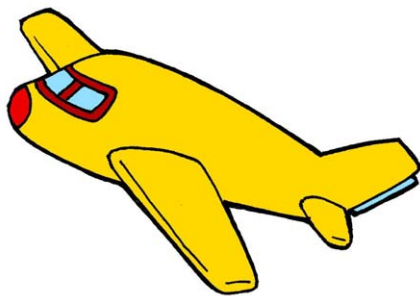
**gambar 12**  
bola golf




## ayo berlatih 2



ayo sekarang kita bandingkan  
ukuran kendaraan kendaraan ini ya  
urutkan dari yang terkecil ke yang besar




pesawat



truk



motor




mobil



## b perubahan bentuk benda

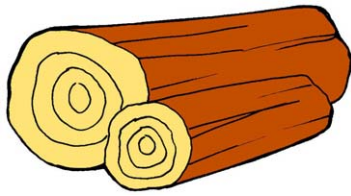
suatu hari pak tomi mengajak bobi ke sebuah toko meubel di belakang toko itu terdapat tempat pembuatannya bobi memperhatikan pegawai yang sedang membuat meja



**gambar 13**  
tempat pembuatan meubel

pertama kayu dipotong dengan menggunakan gergaji kemudian kayu itu diampelas agar kayu menjadi halus selanjutnya kayu dibentuk dalam berbagai ukuran setelah itu dipaku agar terpasang pasang jadilah sebuah meja





**gambar 14**  
kayu gelondongan



**gambar 15**  
kayu digergaji



**gambar 16**  
potongan kayu  
diampelas

**gambar 17**  
potongan kayu dipaku




**gambar 18**  
kayu telah terbentuk  
menjadi meja

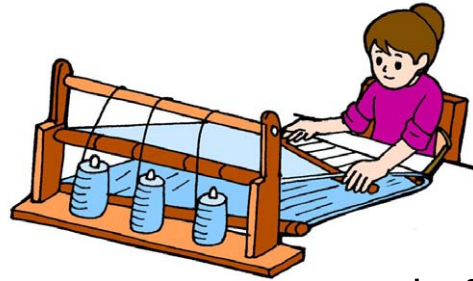
kini bobi mengetahui sesuatu benda dapat berubah bentuk kayu yang semula tidak berguna setelah diolah berubah menjadi barang yang sangat berguna

bu rida juga menjelaskan cara membuat pakaian kepada bobi dan nita pakaian dibuat dari kapas pertama kapas dipintal menjadi benang yang panjang kemudian benang itu ditenun menjadi lembaran kain selanjutnya kain dijahit menjadi pakaian sesuai keinginan





**gambar 19**  
kapas dipintal



**gambar 20**  
benang ditenun



**gambar 21**  
kain dijahit

### ayo berlatih 3



**sebutkan lima nama benda di sekitarmu  
kemudian jelaskan olehmu  
dari apakah benda benda itu dibuat  
contoh:**



benda ini namanya sapu  
batangnya dibuat dari kayu  
bagian tengahnya dibuat dari plastik  
sedangkan bagian bawahnya  
dibuat dari ijuk



## c kegunaan berbagai macam benda

bobi semakin mengerti  
benda yang tidak berguna  
dapat berubah menjadi berguna  
karena keterampilan manusia  
awalnya kayu tidak berguna  
setelah dijadikan lemari meja kursi  
menjadi sangat berguna  
kursi kita gunakan untuk duduk  
lemari untuk menyimpan pakaian  
dan berbagai barang lainnya

### ayo berlatih 4



coba sebutkan olehmu  
kegunaan benda benda berikut

1



helm

3



senter

2



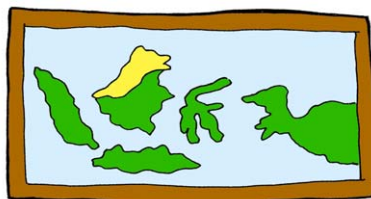
pakaian

4



payung

5



peta





## kegiatan



ayo kita gunakan  
benda yang sudah tidak berguna  
menjadi berguna kembali  
yaitu dengan membuat bingkai foto

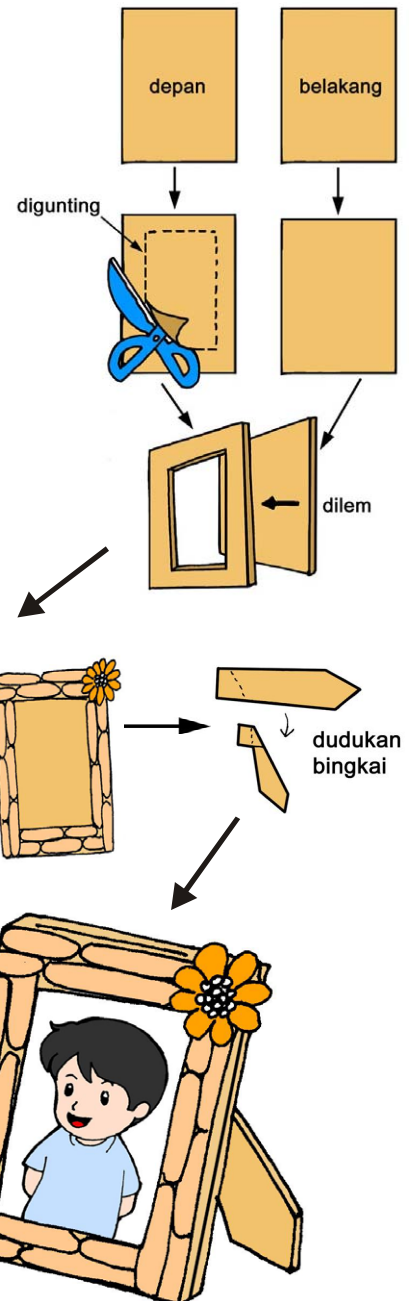
### bahan

kardus bekas  
lem  
stik es krim  
gunting



### cara membuat

- 1 guntinglah kardus membentuk persegi panjang sebanyak dua buah dengan ukuran sama besar
- 2 lubangi bagian tengah salah satu potongan kardus tadi sesuai ukuran fotomu
- 3 tempelkan bagian belakangnya lalu tempelkan stik es krim di sisi sisinya kamu juga dapat menambah hiasan bunga kering
- 4 agar bingkai dapat berdiri buatlah penyangganya atau dudukan bingkai dari sisa kardus



# bermain sambil belajar



## ayo tebak benda apakah aku

- 1 aku adalah benda berbentuk kotak  
jika aku dihubungkan dengan listrik  
dan tombol untuk menyalakanku ditekan  
aku akan menampilkan gambar bergerak  
atau film film kesukaanmu  
aku adalah...
- 2 aku adalah sebuah benda  
aku menempel di dinding  
aku terdiri dari angka angka  
dan aku mempunyai beberapa jarum  
yang selalu bergerak  
untuk menunjukkan waktu  
ayo tebak aku adalah....
- 3 aku berbentuk belah ketupat  
ayo ulur aku ke angkasa  
sehingga aku dapat  
menari nari di atas sana  
jika kamu menarik aku  
aku akan kembali mendekatimu  
aku adalah benda yang bernama...



## ayo kita mengingat kembali

- ◆ benda benda memiliki bentuk yang berbeda
- ◆ bentuk benda ada yang lonjong bulat persegi panjang kotak oval dan sebagainya
- ◆ benda juga ada yang keras serta ada pula yang empuk dan halus tergantung pada bahan dasarnya
- ◆ suatu benda dapat berubah bentuk setelah diolah
- ◆ setiap benda memiliki kegunaan yang berbeda



## kamu perlu tahu

benda	: segala yang ada di alam dan berwujud
empuk	: kebalikan dari keras
jahit	: menyambungkan dengan jarum dan benang
keterampilan	: kecakapan dalam menyelesaikan tugas
pegawai	: orang yang bekerja pada perusahaan
tenun	: kain yang dibuat dari benang




## ayo latih pemahamanmu

4



pilihlah jawaban yang paling tepat



gunanya untuk...

- a menyimpan baju
- b menonton film
- c memanggang kue

2 berikut ini yang bukan merupakan bahan untuk membuat pakaian adalah...

- a kapas
- b kain
- c bata

3 bahan dasar membuat meubel adalah...

- a batu
- b benang
- c. kayu

4 lemari bentuknya...

- a oval
- b bulat
- c persegi panjang


5 benda yang empuk jika dipegang adalah...


- a bantal
- b besi
- c kayu



6 bola yang ukurannya paling kecil adalah...  
a bola basket      b bola voli      c bola golf

7 tanah liat dapat diubah bentuk menjadi...  
a genteng      b selimut      c bantal

8  roda sepeda motor di samping berbentuk...  
a kotak      b lingkaran      c tabung

9  digunakan untuk...  
a menjahit  
b membaca  
c menulis

10 benda berikut yang terbuat dari kayu adalah...  
a celana      b lemari      c kompor

### isilah titik titik di bawah ini

- 1 kayu diampelas agar ...
- 2 kapas dipintal menjadi...
- 3 benang ditenun menjadi...
- 4 sendok dan garpu adalah peralatan untuk...

5  gunanya untuk...



# **bab**

## **5**

### **berbagai energi dan manfaatnya**


perhatikan ibu sedang memasak di dapur peralatan masak yang ibu pakai menggunakan berbagai energi energi apa saja ya yuk pelajari bab ini



**untuk apa kita belajar bab ini**  
mengetahui berbagai bentuk dan manfaat energi dalam kehidupan sehari-hari  
membedakan benda yang mudah bergerak dan yang sulit bergerak melalui percobaan  
menggambarkan penyebab benda bergerak



pak tomi dan bobi  
berjalan jalan ke kota  
ketika berjalan di trotoar  
mereka melihat mobil mogok  
pemiliknya terlihat kebingungan  
pak tomi dan bobi  
segera datang membantunya  
mereka mendorong mobil itu  
ternyata mobil itu mogok  
karena bensinnya habis  
setelah diisi bensin  
mobil kembali melaju



**gambar 1**  
bobi dan pak tomi  
mendorong mobil

## **a hubungan energi dan gerak benda**

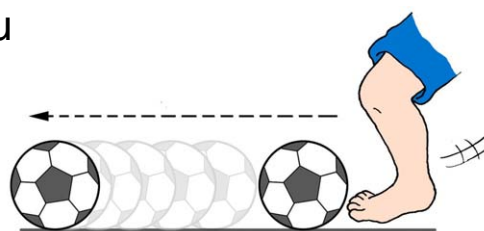
bobi merasa aneh  
mengapa mobil bisa mogok  
dan mengapa mobil bergerak  
saat kita dorong  
pak tomi memberi penjelasan  
karena kita mengeluarkan energi



energi memberi kita kekuatan untuk mendorong mobil itu sehingga mobil bisa bergerak energi dalam tubuh kita berasal dari makanan sedangkan energi bagi mobil berasal dari bensin tanpa bensin mobil tak bergerak kuat lemahnya gerak benda tergantung dari besar energi

## kegiatan

- 1 ambillah sebuah bola
- 2 tendanglah bola itu secara perlahan
- 3 ukurlah jarak perpindahan bola itu dari tempatmu menendang sampai tempat bola itu berhenti
- 4 tendang bola itu dengan keras
- 5 ukur kembali jarak perpindahan bola itu dari tempatmu menendang sampai tempat bola itu berhenti
- 6 lakukan pengukuran dengan langkah kakimu



**gambar 2**  
perpindahan bola  
saat ditendang

## pertanyaan

- 1 berapa langkah perpindahan bola itu saat kamu tendang secara perlahan
- 2 berapa langkah perpindahan bola itu saat kamu tendang dengan keras
- 3 berapa selisih langkah antara bola yang ditendang dengan keras dan yang ditendang secara perlahan





## b berbagai gerak benda dan penyebabnya

### 1 dorongan tangan

pada sore hari bobi bermain ke gelanggang olahraga bobi memperhatikan orang-orang yang sedang berolahraga



**gambar 3**  
bermain voli



**gambar 4**  
bermain basket



**gambar 5**  
mengangkat besi

bobi melihat bola voli dan bola basket bergerak saat dipukul dan dipantulkan ke lantai bobi juga melihat besi bergerak naik ketika seseorang mengangkat besi itu



**gambar 6**  
bobi membayangkan bermain bola dengan bentuk bola kotak

sesampai di rumah bobi bercerita kepada ayahnya tentang apa yang diamatinya ayahnya bertanya kepada bobi bagaimana jika bola berbentuk kotak dapatkah bola bergerak cepat kemudian bobi membayangkan orang yang sedang bermain bola dengan bentuknya yang kotak bobi berpikir bola itu akan sulit bergerak



tiba tiba bobi teringat  
kepada abang becak  
yang kesulitan mengayuh becaknya  
saat ban becaknya kempes  
mengapa demikian  
karena udara dalam ban keluar  
ban menjadi tidak bulat  
karet bannya menjadi longgar  
tidak menggelembung terisi udara  
akibatnya menjadi berat  
dan sulit bergerak



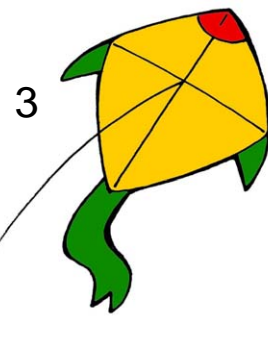
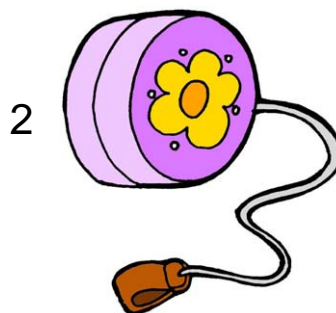
**gambar 7**  
abang becak mengayuh becak  
yang bannya kempes

akhirnya bobi menyimpulkan  
benda bulat lebih mudah  
melakukan gerak menggelinding  
dibandingkan yang berbentuk kotak

## ayo berlatih 1



ayo jelaskan olehmu berbagai gerak benda  
mainan di bawah ini

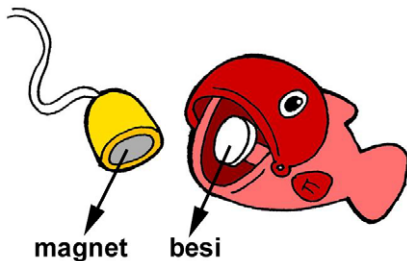


## 2 magnet

bobi anak yang pintar  
karena itu pak tomi  
memberi berbagai mainan kepada bobi  
di antaranya pancing pancingan  
bobi terlihat gembira  
saat bermain pancing pancingan itu



**gambar 8**  
bobi bermain pancing pancingan



**gambar 9**  
magnet pada ujung kail dan  
besi di dalam mulut ikan

ketika kail pancingan bobi  
mengenai mulut ikan yang terbuka  
ujung kail itu langsung menempel  
pada besi di dalam mulut ikan  
mengapa bisa seperti itu  
kata pak tomi karena pada ujung kail  
terdapat magnet atau benda  
yang dapat menarik besi

## 3 pegas atau per

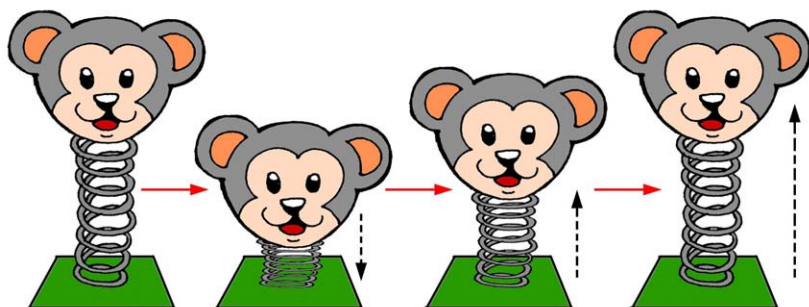
selain mainan itu  
ayah juga membelikan ini untukmu  
seru pak tomi sambil menunjukkan  
sebuah mainan yang unik  
mainan itu belum pernah bobi lihat  
jika kepala bonekanya ditekan  
maka akan turun ke bawah  
sedangkan jika kepala boneka



**gambar 10**  
pak tomi menunjukkan mainan  
dari pegas kepada bobi



pada mainan itu dilepaskan  
maka akan kembali ke keadaan semula  
pak tomi kembali memberi penjelasan  
itu terjadi karena lilitan kawat mainan  
termasuk benda pegas atau per



**gambar 11**  
mainan atau hiasan  
yang termasuk pegas

yaitu suatu benda  
yang dapat menyimpan tenaga saat ditekan  
dan menghasilkan tenaga  
saat dilepaskan kembali  
benda semacam itu juga  
dapat kita jumpai pada pulpen  
dan mainan pistol pistol

## **c sumber energi dan manfaatnya**

### **1 sumber energi**

pak tomi juga tak lupa membelikan  
mainan yang sangat bobi inginkan  
mobil mobilan yang dilengkapi remote kontrol  
bobi senang sekali memainkannya  
namun tiba tiba bobi merasa kecewa  
mobil itu tidak bergerak

ayahnya memeriksa mainan itu ternyata baterainya belum dipasang setelah dipasang baterai mobil itu dapat bergerak pak tomi memberi penjelasan baterai adalah sumber energi yang menyebabkan benda bergerak selain baterai itu ada berbagai sumber energi lainnya salah satunya energi listrik



**gambar 12**  
bobi bermain mobil mobilan yang dilengkapi remote kontrol

## 2 manfaat sumber energi

sumber energi sangat bermanfaat energi disebut juga tenaga apakah manfaat energi listrik tanya bobi kepada ayahnya perhatikanlah ibumu yang sedang menyetrika sambil mendengarkan radio setrika itu menjadi panas karena ada energi listrik demikian juga dengan radio radio itu dapat bersuara karena energi listrik



**gambar 13**  
bu rida menyetrika sambil mendengarkan radio




## ayo berlatih 2



Jelaskan olehmu bagaimana benda benda berikut dapat digunakan

Contoh




benda ini namanya senter  
benda ini dapat menyala  
benda ini dapat menerangi kita  
di tempat yang gelap  
jika ada baterainya  
karena sumber energi  
benda ini adalah baterai

1




2



3



4




5



## makanan sumber energi

setelah lelah bermain  
bobi merasa lapar  
keluarga pak tomi makan bersama  
pak tomi menjelaskan  
makanan juga sumber energi  
karena itu harus bergizi  
agar tubuh sehat dan kuat  
kita dapat berlari kencang  
karena makanan bergizi  
tanpa makan dan minum  
kita akan selalu merasa lemas  
akhirnya menjadi anak malas




**gambar 14**

keluarga pak tomi makan bersama



## ayo kita kenali

thomas alva edison  
adalah salah satu penemu  
terbesar di dunia  
ia telah menemukan 300 penemuan  
di antaranya listrik  
yang saat ini kita gunakan  
thomas alva edison  
dilahirkan pada tanggal  
11 februari 1847  
di milan ohio amerika serikat



**gambar 15**

thomas alva edison



## ayo kita mengingat kembali

- ◆ energi atau tenaga memberi kekuatan
- ◆ kekuatan itu membuat kita mampu mendorong benda
- ◆ energi dalam tubuh berasal dari makanan dan minuman
- ◆ sumber energi itu bermacam macam salah satunya energi listrik
- ◆ setiap sumber energi itu memiliki manfaat
- ◆ dalam kehidupan kita selalu menggunakan energi
- ◆ makanan yang kita makan harus bergizi
- ◆ makanan bergizi membuat tubuh sehat



## kamu perlu tahu

- bensin : minyak bumi yang mudah terbakar
- energi : kemampuan untuk melakukan kerja
- gelanggang : ruang atau lapangan tempat olahraga
- kempes : menjadi kendur karena hilang atau kurang isinya
- magnet : sebuah benda yang dapat menarik besi
- pegas : yaitu benda yang dapat menyimpan tenaga saat ditekan dan menghasilkan tenaga saat dilepaskan kembali
- trottoar : tepi jalan besar yang lebih tinggi dari jalan itu
- udara : campuran berbagai gas yang tidak berwarna dan tidak berbau





## ayo latih pemahamanmu

5



**pilihlah jawaban yang paling tepat**

1 tukang sayur dapat mendorong gerobak karena mengeluarkan...

a ilmu

b uang

c tenaga

2 mobil dapat melaju karena diisi...

a air

b bensin

c minyak

3 jam dinding dapat bergerak menunjukkan waktu karena diisi...sebagai sumber energinya


a baterai

b bata

c bensin

4 benda berikut yang paling mudah digerakkan adalah...

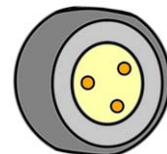
a



b



c




5 benda yang dapat ditarik magnet adalah...

a plastik

b besi

c kayu



6  benda di samping namanya...

a per

b magnet

c listrik

7 benda berikut yang sumber energinya bukan dari minyak tanah adalah...

a



b



c



8 benda akan bergerak jauh apabila di...

a sentuh

b pukul

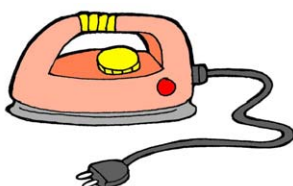
c tendang

9 benda yang paling mudah bergerak adalah yang bentuknya...

a kotak

b bulat

c segitiga

10  digunakan untuk...

a merapikan pakaian

b mobil mobilan

c mencuci pakaian



## isilah titik titik di bawah ini

- 1 energi disebut juga dengan istilah...
- 2 salah satu sumber energi adalah...
- 3 tanpa makan dan minum  
kita akan merasa...
- 4 mobil sumber energinya dari...
- 5 makanan bergizi membuat tubuh... dan...



# **bab**

## **6**

### **benda benda langit dan peristiwa alam**

lihatlah di sekitarku  
banyak benda  
tahukah kamu  
nama nama benda itu  
pelajari bab ini ya



#### **untuk apa kita belajar bab ini**

mengenal berbagai benda langit  
peristiwa alam serta pengaruhnya bagi manusia  
mengenal keadaan cuaca di sekitar kita  
membedakan pengaruh musim kemarau  
dan musim hujan terhadap kegiatan manusia




## a benda benda langit


pada hari minggu  
pak tomi mengajak keluarganya  
mengunjungi planetarium boscha  
di sana mereka melihat  
berbagai benda langit  
inilah di antara benda langit  
yang mereka lihat



**gambar 1**  
bintang



**gambar 2**  
planet



**gambar 3**  
matahari

saat melihat benda benda langit  
nita membayangkan dirinya  
menjadi seorang astronot



**gambar 4**  
nita membayangkan menjadi astronot





## ayo kita kenali

karel arbert rudolf boscha merupakan pendiri observatorium boscha resminya observatorium ini berdiri tahun 1923 observatorium ini berfungsi untuk mengamati bintang dan benda langit lainnya



**gambar 5**  
observatorium boscha

## 1 malam hari

sepulang dari sana  
hari sudah larut malam  
bobi turun dari mobil  
kemudian memandang ke langit  
langit tampak hitam  
di malam hari  
namun bobi melihat bulan  
bersinar sangat terang  
bintang bintang juga  
terlihat bertaburan di langit  
bintang itu kelap kelip  
langit di malam hari  
tampak sangat indah



**gambar 6**  
langit di malam hari



## 2 pagi hari


di pagi yang cerah  
saat bobi pergi sekolah  
bobi kembali memandangi langit  
ternyata bulan telah tenggelam  
demikian juga dengan bintang  
saat itu langit berwarna biru  
yang terlihat adalah matahari  
matahari terbit di pagi hari  
di arah sebelah timur

## 3 siang hari

siang hari bobi pulang sekolah  
bobi memandangi langit lagi  
saat melihat ke atas  
bobi merasa silau  
matahari di siang hari  
bersinar sangat terang  
itulah sebabnya mata bobi  
menjadi silau terkena sinarnya



**gambar 7**  
bobi merasa silau



**gambar 8**  
awan mengiringi matahari

awan putih mengiringi matahari  
terlihat seperti kapas  
sungguh sangat menakjubkan  
sesampainya di rumah  
bobi bercerita kepada ayahnya  
tentang apa yang dilihatnya  
pak tomi menjelaskan  
awan bukan benda langit  
tetapi kumpulan butiran air




## ayo berlatih 1




ceritakan olehmu mengenai benda langit berikut

contoh



bulan bersinar terang  
pada malam hari  
menghiasi langit yang hitam  
menjelang pagi hari  
bulan tenggelam

1



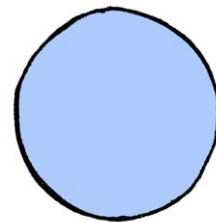
matahari

2



bintang

3



planet

## b cuaca

pada sore hari  
bobi telah bersiap siap  
ia akan pergi bermain bola  
ketika bobi keluar rumah  
bobi tampak kecewa  
langit terlihat gelap sore itu  
sepertinya akan turun hujan



**gambar 9**  
bobi kecewa








**gambar 10**  
bu rida menunjuk langit saat  
akan turun hujan

sebaiknya kamu jangan pergi  
bu rida melarang bobi  
mengapa langit gelap  
padahal malam belum tiba  
tanya bobi kepada ibunya  
itu karena matahari tertutup awan  
sehingga matahari  
tak dapat menyinari bumi  
awan hitam itu berisi uap air  
lama kelamaan menjadi air  
air itu akan menetes ke bumi

bobi terlihat asyik  
mendengarkan penjelasan ibunya  
tiba tiba ia terkejut  
ketika suara petir menyambar  
kata ibu kilat atau petir  
selalu menyertai hujan



**gambar 11**  
pelangi

saat turun hujan  
dan langit terlihat terang  
karena ada sinar matahari  
biasanya muncul pelangi  
dengan berbagai warna  
terlihat sangat indah

nita mendengar ibunya  
sedang menjelaskan  
tentang pelangi  
kepada kakaknya  
kemudian nita bernyanyi



pelangi pelangi  
alangkah indahmu  
merah kuning hijau  
di langit yang biru  
pelukismu agung  
siapa gerangan  
pelangi pelangi  
ciptaan tuhan



## kegiatan



**ayo kita buat pelangi sendiri  
dengan mengikuti langkah berikut**

- 1 siapkan botol semprotan
- 2 berdirilah membelakangi matahari  
saat matahari bersinar terang
- 3 semprotkan air yang ada  
dalam botol semprotmu ke udara
- 4 perhatikanlah apa yang terbentuk  
di udara



**gambar 12**  
membuat pelangi sendiri

## **c** musim dan pengaruhnya

setelah pak tomi pulang dari kantor  
bobi bercerita kepada ayahnya  
tentang perubahan cuaca  
kemudian pak tomi menjelaskan  
di negara kita ada dua musim  
musim hujan dan musim kemarau



# 1 musim hujan

pada musim hujan  
setiap akan pergi  
kita harus sedia payung  
karena jika kehujanan  
badan menjadi demam  
jangan lupa pula memakai jaket  
karena pada musim hujan  
udara terasa dingin  
hujan juga memberi manfaat  
air hujan menyirami tanaman  
tanaman menjadi tumbuh subur  
mendengar penjelasan ayahnya  
nita kembali bernyanyi

tik...tik...tik  
bunyi hujan di atas genting  
airnya turun tidak terkira  
cobalah tengok dahan dan ranting  
pohon dan kebun basah semua

katak juga suka pada hujan  
di musim hujan  
katak bermain air  
sambil melompat lompat kegirangan





**gambar 13**  
katak melompat kegirangan  
di musim hujan



## 2 musim kemarau

di musim kemarau  
hujan tidak turun  
matahari bersinar dengan terang  
jika musim kemarau panjang  
kita dapat kekurangan air  
tanaman menjadi kering  
dan juga layu  
tanah terlihat retak retak  
hewan hewan banyak yang mati



**gambar 14**  
musim kemarau panjang



**gambar 15**  
pakaian dijemur di bawah  
terik matahari


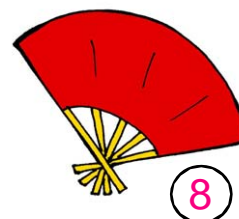

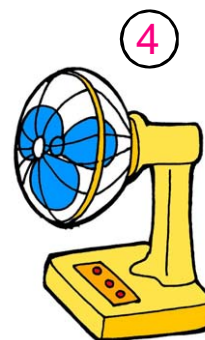
pada musim kemarau juga  
udara terasa lebih panas  
sungguh menyedihkan  
namun di samping itu  
musim kemarau memberi  
keuntungan bagi kita  
jika kita menjemur pakaian  
maka akan cepat kering




## ayo berlatih 2



perhatikanlah benda benda di bawah ini  
tuliskan nama namanya di bukumu  
lalu kelompokkan olehmu benda benda  
yang dibutuhkan pada musim hujan  
dan pada musim kemarau  
dengan menuliskan nomornya



nomor...



nomor...



# bermain sambil belajar



coba pasangkan gambar di bawah ini dengan memberi panah pada pasangannya sehingga cuaca dan alat yang kamu butuhkan menjadi sesuai



sumber majalah kreativitas mombi no 7  
tahun xi 16 mei 2003



## ayo kita mengingat kembali

- ♦ jika ingin mengamati benda langit kita dapat berkunjung ke observatorium boscha
- ♦ pada malam hari bulan bersinar terang
- ♦ pada siang hari matahari yang bersinar
- ♦ di negara kita terdiri dari dua musim yaitu musim hujan dan musim kemarau
- ♦ petir selalu mengiringi datangnya hujan
- ♦ pelangi muncul saat ada titik air dan sinar matahari



## kamu perlu tahu

- cuaca : keadaan udara pada suatu tempat tertentu
- musim : waktu tertentu yang bertalian dengan keadaan udara pada suatu daerah
- observatorium : tempat untuk mengamati benda benda angkasa
- pelangi : cahaya lengkung di langit dengan beraneka warna
- uap : gas yang terjadi dari cairan apabila dipanaskan



## ayo latih pemahamanmu

6



### pilihlah jawaban yang paling tepat

- 1 pada malam hari bobi melihat...  
bersinar terang  
a matahari                      b bulan                      c pelangi
- 2 matahari terbit dari arah...  
a barat                      b timur                      c utara
- 3 matahari terbenam di arah...  
a timur                      b selatan                      c barat
- 4 sinar...membuat pakaian yang dijemur  
menjadi kering  
a matahari                      b bulan                      c bintang
- 5 pak tomi memakai...agar matanya  
tidak silau  
a kaca mata                      b topeng                      c saputangan
- 6 keuntungan dari musim hujan di antaranya...  
a menyebabkan banjir  
b tanaman menjadi subur  
c pakaian sulit kering





- 7 keuntungan dari musim kemarau di antaranya...  
a tanaman menjadi layu  
b sulit mendapatkan air  
c nelayan dapat menjemur ikannya
- 8 observatorium boscha berfungsi untuk mengamati....  
a bintang                      b pemandangan                      c benda kecil
- 9 berikut ini yang tidak termasuk tanda turunnya hujan adalah...  
a langit terlihat gelap  
b terdengar suara petir  
c langit tampak cerah
- 10 pada musim ...katak melompat kegirangan  
a hujan                      b kemarau                      c salju

## **II isilah titik titik di bawah ini**

- 1 benda langit yang dilihat bobi di planetarium boscha di antaranya...
- 2 awan putih di siang hari terlihat seperti...
- 3 awan hitam saat akan hujan berisi...
- 4 pelangi akan muncul jika ada...dan...
- 5 jenis musim di negara kita ada dua yaitu musim...dan...

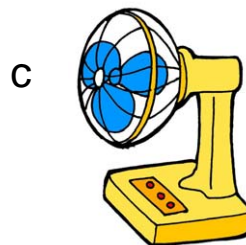



## ayo uji kemampuanmu 2

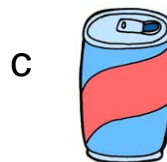



pilihlah jawaban yang paling tepat

1 benda yang dapat mengeluarkan nyanyian merdu adalah...



2 benda yang bentuknya tabung adalah...



3 benda yang dapat menarik besi disebut...

a kapas

b magnet

c cermin

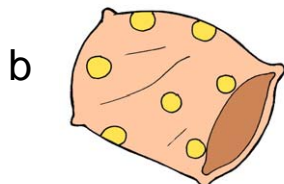

4 thomas alva edison adalah salah satu penemu...

a listrik


b magnet

c pegas

5 tanah liat dapat diubah bentuk menjadi...



6 bensin merupakan sumber energi bagi...



7 panas yang dihasilkan oleh setrika karena bantuan energi...

a listrik

b cahaya

c gerak

8 kipas angin dapat berputar di ruangan karena ada...

a energi listrik

b angin kencang

c cahaya lampu



9 senter dapat bersinar karena diisi...

a bensin

b baterai

c minyak

10 bobi tidak melihat...pada malam hari



11 tanda akan turun hujan adalah...

a ada petir

b bulan bersinar

c langit terang

12 para nelayan menjemur ikan pada musim...

a kemarau

b hujan

c salju



13 pada...hari matahari bersinar sangat terik

a malam

b siang

c pagi

14 tanaman terlihat layu pada musim...

a hujan

b kemarau

c salju

15 di negara kita tidak ada musim...

a salju

b hujan

c kemarau

16



gambar di samping menunjukkan suasana pada...

a siang hari

b pagi hari

c malam hari

17 di bawah ini yang dibutuhkan pada musim hujan adalah...

a



b



c



18 minuman yang cocok diminum pada saat hujan adalah...

a es jeruk

b jus mangga

c teh hangat



19 benda yang menggunakan energi listrik adalah...

a



b

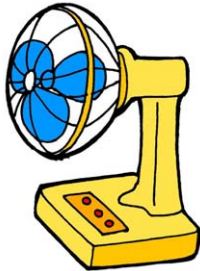


c




20 benda yang tidak membutuhkan energi listrik adalah...


a



b



c



**jawablah pertanyaan di bawah ini**

- 1 sebutkan tiga benda yang berbentuk tabung
- 2 dapat diubah menjadi apa sajakah kayu itu
- 3 sebutkan peralatan ibu di dapur yang menggunakan energi listrik
- 4 bagaimana jika mobil tidak ada bensinnya
- 5 sebutkan benda langit yang terlihat pada malam hari





## daftar pustaka

Syukur. A. 2005. Ensiklopedi Umum untuk Pelajar. PT. Ichtiar Baru VanHoeve. Jakarta.

Badan Standar Nasional Pendidikan. 2006. Standar Kompetensi dan Kompetensi Dasar Mata Pelajaran Ilmu Pengetahuan Alam untuk Kelas satu Sekolah Dasar dan Madrasah Ibtidaiyah. Depdiknas. Jakarta.

Majalah Aku Anak Saleh No.44

Majalah Aku Anak Saleh Seri SD Edisi Mei 1995.

Majalah Kreativitas Mombi No. 17 Tahun XI 16 November 2003.

Majalah Kreativitas Mombi Tahun XI 16 Mei 2003.

Microsoft Encarta Encyclopedia 2003.

Nurlailah. 2008. Lentera Hati Pendidikan Agama Islam untuk kelas tiga Sekolah Dasar. Yrama Widya. Bandung.

Pusat Bahasa Depdiknas. 2005. Kamus Besar Bahasa Indonesia Edisi Kelima. Balai Pustaka. Jakarta.

Tokoh Indonesia DotCom (Ensiklopedia Indonesia).

Zanini, Giuseppe. 1986. Mari Menelusuri Lingkungan. Tira Pustaka. Jakarta.







ISBN 978-979-068-001-2 (nomor jilid lengkap)

ISBN 978-979-068-002-9

Buku ini telah dinilai oleh Badan Standar Nasional Pendidikan (BSNP) dan telah dinyatakan layak sebagai buku teks pelajaran berdasarkan Peraturan Menteri Pendidikan Nasional Nomor 69 Tahun 2008 tanggal 7 November 2008 tentang Penetapan Buku Teks yang Memenuhi Syarat Kelayakan untuk Digunakan dalam proses pembelajaran.

Harga Eceran Tertinggi (HET) Rp7.092,-